



رياضيات الأعمال

الصف الثاني عشر - المسار الأكاديمي

الفصل الدراسي الأول

كتاب التمارين

12

فريق التأليف

د. عمر محمد أبوغليون (رئيساً)

يوسف سليمان جرادات

هبه ماهر التميمي

إبراهيم عقلة القادري

نور محمد حسان

الناشر: المركز الوطني لتطوير المناهج والتقييم

يسر المركز الوطني لتطوير المناهج والتقييم استقبال آرائكم وملحوظاتكم على هذا الكتاب عن طريق العناوين الآتية:

☎ 06-5376262 / 237 📠 06-5376266 ✉ P.O.Box: 2088 Amman 11941

📌 @nccdjor 📧 feedback@nccd.gov.jo 🌐 www.nccd.gov.jo

قرّرت وزارة التربية والتعليم تدرّيس هذا الكتاب في مدارس المملكة الأردنية الهاشمية جميعها، بناءً على قرار المجلس الأعلى للمركز الوطني لتطوير المناهج والتقويم في جلسته رقم (2025/4)، تاريخ 2025/5/6 م، وقرار مجلس التربية والتعليم رقم (2025/121)، تاريخ 2025/6/17 م، بدءاً من العام الدراسي 2025 / 2026 م.

© HarperCollins Publishers Limited 2025.

- Prepared Originally in English for the National Center for Curriculum Development and Evaluation
. Amman - Jordan

- Translated to Arabic, adapted, customised and published by the National Center for Curriculum
Development and Evaluation

. Amman - Jordan

ISBN: 978 - 9923 - 66 - 015 - 7

المملكة الأردنية الهاشمية
رقم الإيداع لدى دائرة المكتبة الوطنية
(2026/1/311)

بيانات الفهرسة الأولية للكتاب:

رياضيات الأعمال، كتاب التمارين: الصف الثاني عشر المسار الأكاديمي، الفصل الدراسي الأول	عنوان الكتاب
الأردن، المركز الوطني لتطوير المناهج والتقويم	إعداد / هيئة
عمان: المركز الوطني لتطوير المناهج والتقويم، 2026	بيانات النشر
375.001	رقم التصنيف
/ الرياضيات // تطوير المناهج // المقررات الدراسية // مستويات التعليم /	الوصفات
الطبعة الثانية، مزيدة ومنقحة	الطبعة
يتحمّل المؤلف كامل المسؤولية القانونية عن محتوى مصنفه ولا يعبر هذا المصنف عن رأي دائرة المكتبة الوطنية.	

التحكيم التربوي: أ. د. خالد محمد أبو اللوم

التحكيم العلمي: أ. د. محمد صبح صبابحة

التحرير اللغوي: نضال أحمد موسى

التصميم الجرافيكي: راكان محمد السعدي

All rights reserved. No part of this publication may be reproduced, sorted in retrieval system, or transmitted in any form by any means, electronic, mechanical, photocopying, recording or otherwise, without the prior written permission of the publisher or a license permitting restricted copying in the United Kingdom issued by the Copyright Licensing Agency Ltd, Barnard's Inn, 86 Fetter Lane, London, EC4A 1EN.

British Library Cataloguing -in- Publication Data

A catalogue record for this publication is available from the Library.

1446 هـ / 2025 م

الطبعة الأولى (التجريبية)

2026 م

أعيد طباعته

أعزاءنا الطلبة ...

يحتوي هذا الكتاب على تمارين مُتنوّعة أُعِدَّت بعناية لتغنيكم عن استعمال مراجع إضافية، وهي تُعدُّ استكمالاً للتمارين الواردة في كتاب الطالب، وتهدف إلى مساعدتكم على ترسيخ المفاهيم التي تتعلمونها في كل درس، وتُنمّي مهاراتكم الحسابية.

قد يختار المُعلِّم/ المُعلِّمة بعض تمارين هذا الكتاب واجباً منزلياً، ويترك لكم بعضها الآخر لكي تحلّوها عند الاستعداد للاختبارات الشهرية واختبارات نهاية الفصل الدراسي.

أمّا الصفحات التي تحمل عنوان (أستعد لدراسة الوحدة) في بداية كل وحدة، فإنّها تساعدكم على مراجعة المفاهيم التي درستوها سابقاً؛ ما يُعزّز قدرتكم على متابعة التعلّم في الوحدة الجديدة بسلاسة ويسر.

قد لا يتوافر فراغ كافٍ إزاء كل تمرين لكتابة خطوات الحلّ جميعها؛ لذا يُمكن استعمال دفتر إضافي لكتابتها بوضوح.

متمنين لكم تعلّماً ممتعاً ومُيسراً.

المركز الوطني لتطوير المناهج والتقويم

الوحدة 1 المصفوفات

6 أستعد لدراسة الوحدة

11 **الدرس 1** مُقدِّمة في المصفوفات

12 **الدرس 2** العمليات على المصفوفات

14 **الدرس 3** ضرب المصفوفات

16 **الدرس 4** المُحدِّدات وقاعدة كريمر

الوحدة 2 الخوارزميات ونظرية المخططات

- 18 أستعد لدراسة الوحدة
- 19 **الدرس 1** الخوارزميات
- 22 **الدرس 2** خوارزميات تعبئة الصندوق
- 25 **الدرس 3** المخططات
- 28 **الدرس 4** أنواع خاصة من المخططات
- 31 **الدرس 5** مخططات أويلر

الوحدة 3 البرمجة الخطية

- 33 أستعد لدراسة الوحدة
- 37 **الدرس 1** حل نظام متباينات خطية بمُتغيرين بيانياً
- 38 **الدرس 2** البرمجة الخطية
- 39 **أوراق الرسم البياني**

أختبر معلوماتي قبل البدء بدراسة الوحدة، وفي حال عدم تأكدي من الإجابة أستعين بالمثل المعطى.

تبسيط مقادير عددية

أجد قيمة كلِّ مما يأتي:

1 $4(-1) + 3(6) - 5(8)$

2 $3(4 - (-2)) + 5(-3 + 8)$

3 $9(7 - 4) + 2(-4)^2$

4 $4(7 + 6 - 2) - 2(-3 + 9 - (-2))$

5 $4(-3)(5) + 6(-2)(-8) + 0(4)(-3)$

6 $2(3(-4) - 5(-6)) - 3(5(-2) - 6(3))$

مثال: أجد قيمة كلِّ مما يأتي:

a) $5(4(-2) - 3(-6))$

$$5(4(-2) - 3(-6))$$

$$= 5(-8 + 18)$$

$$= 5(10)$$

$$= 50$$

المقدار المعطى

بتبسيط ما في داخل الأقواس

بتبسيط ما في داخل الأقواس

بالضرب

b) $4(-2)^3 - 2(-7 + 3)$

$$4(-2)^3 - 2(-7 + 3)$$

$$= 4(-8) - 2(-4)$$

$$= -32 + 8$$

$$= -24$$

المقدار المعطى

بتبسيط ما في داخل الأقواس، وحساب القوى

بالضرب

بالجمع

حلُّ المعادلة الخطية بمتغير واحد

أحلُّ كُلًّا من المعادلات الآتية:

7 $7x - 6 = 18$

8 $-5x + 3 = 2x + 8$

9 $2(x - 5) + 6x = 8$

10 $38 + 7k = 8(k + 4)$

مثال: أحلُّ المعادلة: $2(3x + 4) = 4x + 17$

$$2(3x + 4) = 4x + 17$$

$$6x + 8 = 4x + 17$$

$$6x + 8 - 8 = 4x + 17 - 8$$

$$6x - 4x = 4x - 4x + 9$$

$$\frac{2x}{2} = \frac{9}{2}$$

$$x = 4.5$$

المعادلة الأصلية

خاصية التوزيع

أطرح 8 من طرفي المعادلة

أطرح $4x$ من طرفي المعادلة

أقسم طرفي المعادلة على 2

أبسّط

حلُّ المعادلات التربيعية بمتغير واحد

أحلُّ كُلًّا من المعادلات الآتية:

11 $x^2 + 6x = 0$

12 $x^2 - 3x - 4 = 0$

13 $10x^2 + 3x - 4 = 0$

14 $x^2 - 2x = 4$

مثال: أحلُّ كلاً من المعادلات الآتية:

a) $2x^2 - 3x - 2 = 0$

$$2x^2 - 3x - 2 = 0$$

المعادلة المُعطاة

$$(2x + 1)(x - 2) = 0$$

بالتحليل إلى العوامل

$$2x + 1 = 0 \quad \text{or} \quad x - 2 = 0$$

خاصية الضرب الصفري

$$x = -\frac{1}{2} \quad x = 2$$

بحل كل معادلة لـ x

b) $x^2 - 4x = 4$

$$x^2 - 4x = 4$$

المعادلة المُعطاة

$$x^2 - 4x + \left(\frac{-4}{2}\right)^2 = 4 + \left(\frac{-4}{2}\right)^2$$

يُكامل المُربّع

$$(x - 2)^2 = 8$$

بتحليل المُربّع الكامل

$$x - 2 = \pm\sqrt{8}$$

بأخذ الجذر التربيعي

$$x = 2 \pm\sqrt{8}$$

بإضافة 2 إلى الطرفين

إذن، للمعادلة حلان، هما: $x = 2 + \sqrt{8}$, $x = 2 - \sqrt{8}$.

c) $24x^2 + 17x - 20 = 0$

$$24x^2 + 17x - 20 = 0$$

المعادلة المُعطاة

$$a = 24, b = 17, c = -20$$

بالمقارنة مع الصورة العامة: $ax^2 + bx + c = 0$

$$x = \frac{-b \pm \sqrt{b^2 - 4ac}}{2a}$$

صيغة القانون العام

$$x = \frac{-17 \pm \sqrt{17^2 - 4(24)(-20)}}{2(24)}$$

بالتعويض

$$x = \frac{-17 \pm \sqrt{2209}}{48} = \frac{-17 \pm 47}{48}$$

بالتبسيط

إذن، للمعادلة حلان، هما: $x = \frac{5}{8}$, $x = -\frac{4}{3}$.

حل أنظمة معادلات خطية بمتغيرين بالحذف والتعويض

أحل كل نظام معادلات مما يأتي:

$$\begin{aligned} 15 \quad x + 3y &= 17 \\ 2x - 3y &= -2 \end{aligned}$$

$$\begin{aligned} 16 \quad 3x - 4y &= 16 \\ x &= 2y - 3 \end{aligned}$$

مثال: أحل نظام المعادلات الآتي:

$$2x + 5y = 1$$

$$3x - y = -7$$

الطريقة (1): استعمال الحذف.

لحل النظام باستعمال طريقة الحذف، أضرب طرفي المعادلة الثانية في 5، ثم أجمع المعادلتين.

$$2x + 5y = 1$$

$$15x - 5y = -35$$

$$\hline 17x = -34$$

بقسمة طرفي المعادلة الناتجة على 17، أجد أن: $x = -2$.

بتعويض قيمة x في أيٍّ من المعادلتين الأصليتين (لتكن الأولى)، فإنَّ:

$$2x + 5y = 1$$

المعادلة الأولى

$$2(-2) + 5y = 1$$

بتعويض $x = -2$

$$-4 + 5y = 1$$

بالضرب

$$5y = 5$$

بإضافة 4 إلى طرفي المعادلة

$$y = 1$$

بقسمة طرفي المعادلة على 5

إذن، الحلُّ هو: $(-2, 1)$.

الطريقة (2): استعمال التعويض.

لحلِّ النظام باستعمال طريقة التعويض، أجعل أحد المتغيِّرين موضوعاً لإحدى المعادلتين، ثمَّ أعوِّض قيمته في المعادلة الأخرى.

$$3x - y = -7$$

المعادلة الثانية

$$-y = -7 - 3x$$

ب طرح $3x$ من طرفي المعادلة

$$y = 7 + 3x$$

بالضرب في -1

$$2x + 5(7 + 3x) = 1$$

بالتعويض في المعادلة الأولى

$$2x + 35 + 15x = 1$$

خاصية التوزيع

$$17x + 35 = 1$$

بجمع الحدود المُتشابهة

$$17x = -34$$

ب طرح 35 من طرفي المعادلة

$$x = -2$$

بقسمة طرفي المعادلة على 17

بتعويض $x = -2$ في المعادلة: $y = 7 + 3x$ ، فإنَّ: $y = 1$.

إذن، الحلُّ هو: $(-2, 1)$.

مُقدِّمة في المصفوفات Introduction to Matrices

أحدّد رتبة كل مصفوفة مما يأتي:

1 $\begin{bmatrix} 0 & 4 & -1 \\ 5 & -3 & 6 \end{bmatrix}$

2 $\begin{bmatrix} 4 \\ 6 \\ 8 \end{bmatrix}$

3 $\begin{bmatrix} -8 & 5 \\ 3 & 1 \end{bmatrix}$

4 $[-4 \ 3 \ 7]$

5 $\begin{bmatrix} 5 & 8 & 2 \\ -4 & 0 & 3 \\ 7 & 6 & 5 \end{bmatrix}$

6 $\begin{bmatrix} 6 & 4 & 0 \\ 5 & -2 & 1 \\ 3 & 8 & -2 \\ 1 & 9 & 10 \end{bmatrix}$

المشروب	صغير	وسط	كبير
غازي	40	60	75
شاي	30	40	55
قهوة	50	70	90
عصير	65	90	125

يبيّن الجدول المجاور الأسعار (بالقروش) لعدد من المشروبات في أحد المحال التجارية:

7 أرتّب هذه البيانات في مصفوفة رتبته 4×3 ، ثمّ أسمي المصفوفة P .

8 أجد العنصر p_{32} ، ثمّ أبين ما يمثّله.

9 ما رمز العنصر 55 في هذه المصفوفة؟

10 إذا كانت: $\begin{bmatrix} 5 & x+3 \\ 8 & 0 \\ 1 & z \end{bmatrix} = \begin{bmatrix} 5 & 4 \\ x+y & 0 \\ 1 & y+4 \end{bmatrix}$ ، فأجد قيمة كلّ من x ، y ، و z .

	المدارس	المراكز الصحيّة
1 المحافظة	54	12
2 المحافظة	94	23
3 المحافظة	75	18

خدمات حكومية: يتوّع إنشاء مدارس ومراكز صحيّة جديدة عام 2025م و عام 2026م في ثلاث محافظات كما هو مبين في الجدول المجاور:

11 أرتّب هذه البيانات في مصفوفة رتبته 2×3

12 أجد مجموع عناصر الصف الأول، ثمّ أبين ما يمثّله هذا المجموع (إن كان له معنى).

13 أجد مجموع عناصر العمود الثاني، ثمّ أبين ما يمثّله هذا المجموع (إن كان له معنى).

العمليات على المصفوفات Operations on Matrices

إذا كان: $A = \begin{bmatrix} 2 & -2 \\ 5 & 7 \\ 3 & 6 \end{bmatrix}$, $B = \begin{bmatrix} 9 & 5 \\ -3 & 1 \\ 8 & 6 \end{bmatrix}$, $C = \begin{bmatrix} -4 & 0 & 8 \\ 1 & 5 & 4 \end{bmatrix}$, $D = \begin{bmatrix} -9 & 30 & 36 \\ 12 & 15 & -24 \end{bmatrix}$: فأجد كلاً ممّا يأتي (إن أمكن):

1 $A + B$

2 $B + C$

3 $C - D$

4 $B - A$

5 $4A$

6 $3A - 2B$

7 $D + 2C$

8 $-\frac{2}{3}D$

9 أكتب المصفوفة: $A = \begin{bmatrix} \frac{5}{3} & -1 \\ \frac{1}{4} & \frac{7}{6} \end{bmatrix}$ في صورة: $A = kM$, حيث k عدد ثابت، و M مصفوفة عناصرها أعداد صحيحة.

10 إذا كانت: $\begin{bmatrix} 3 & a \\ -2 & -8 \end{bmatrix} + \begin{bmatrix} b & 11 \\ -4 & 12 \end{bmatrix} = \begin{bmatrix} 9 & 3b \\ c & d \end{bmatrix}$ ، فأجد قيمة كل من a ، و b ، و c ، و d .

العمليات على المصفوفات Operations on Matrices

11 إذا كانت: $\begin{bmatrix} x & y \\ -y & x \end{bmatrix} - \begin{bmatrix} y & x \\ x & -y \end{bmatrix} = \begin{bmatrix} 4 & -4 \\ -6 & 6 \end{bmatrix}$ ، فأجد قيمة كل من x ، و y .

12 إذا كانت: $3 \begin{bmatrix} 2 & -1 \\ 4 & 5 \end{bmatrix} - 2B = \begin{bmatrix} 3 & 5 \\ -2 & 1 \end{bmatrix}$ ، فأجد المصفوفة B .

13 أجد قيمة كل من x ، و y التي تُحقق المعادلة الآتية:

$$x \begin{bmatrix} 0 & 1 & 3 \end{bmatrix} + y \begin{bmatrix} 0 & 0 & 5 \end{bmatrix} = \begin{bmatrix} 0 & (3-y) & -7 \end{bmatrix}$$

14 **ملاحظة:** يُبين الجدول الأيسر عدد ما أنتجته 3 مصانع لإحدى الشركات من 3 طرازات لأجهزة التكييف المنزلي في النصف الأول من عام 2020م، ويُبين الجدول الأيمن عدد أجهزة التكييف المنزلي المُنتجة في النصف الثاني من العام نفسه في هذه المصانع. أكتب مصفوفة تُمثل عدد ما أنتجه كل واحد من هذه المصانع الثلاثة من طرازات أجهزة التكييف المنزلي عام 2020م.

	الطراز A	الطراز B	الطراز C
المصنع 1	700	1300	670
المصنع 2	650	1000	890
المصنع 3	480	900	540

	الطراز A	الطراز B	الطراز C
المصنع 1	850	1200	670
المصنع 2	540	860	530
المصنع 3	620	750	490

ضرب المصفوفات Matrix Multiplication

إذا كانت $A_{5 \times 3}$ ، وكانت $B_{2 \times 3}$ ، وكانت $C_{3 \times 5}$ ، فأحدِّد عمليات الضرب المُمكنة ممَّا يأتي، ثمَّ أجد رتبة المصفوفة الناتجة:

- 1 AB 2 AC 3 CA 4 BC 5 CB

إذا كان: $A = \begin{bmatrix} 3 & -2 \\ 1 & 4 \end{bmatrix}$ ، $B = \begin{bmatrix} 5 & 3 & -2 \\ -4 & 1 & 7 \end{bmatrix}$ ، $C = \begin{bmatrix} 2 & 2 \\ -4 & 3 \\ 1 & 5 \end{bmatrix}$ ، $D = \begin{bmatrix} -3 \\ 0 \\ -1 \end{bmatrix}$ ، فأجد كلاً ممَّا يأتي (إن أمكن):

- 6 AB 7 BA 8 BC
9 CB 10 BD 11 $2A + 3BC$
12 A^2 13 A^3 14 $(CB)^2$

15 إذا كانت: $\begin{bmatrix} 1 & 3 \\ x & 2 \end{bmatrix} \times \begin{bmatrix} y & -1 \\ 3 & -2 \end{bmatrix} = \begin{bmatrix} 7 & -7 \\ 8 & -3 \end{bmatrix}$ ، فأجد قيمة كلٍّ من x ، و y .

16 أجد ناتج: $[3 \ 2 \ -4] \times \begin{bmatrix} 5 & 4 \\ 1 & 2 \\ 3 & 0 \end{bmatrix} \times \begin{bmatrix} 6 & 2 \\ -3 & 5 \end{bmatrix}$.

17 إذا كان: $B = \begin{bmatrix} 1 & 0 \\ \sqrt{3} & -1 \end{bmatrix}$ ، فأجد B^3 .

18 إذا كان: $A = \begin{bmatrix} 6 \\ 18 \end{bmatrix}$ ، $B = \begin{bmatrix} 3 & 4 \\ 2 & -1 \end{bmatrix}$ ، فأجد المصفوفة C ، بحيث يكون $A + C = BC$.

ضرب المصفوفات
Matrix Multiplication

مبيعات: يُبيّن الجدول الأيمن قيمة مبيعات أحذية الرجال والنساء والأطفال (بالدنانير) لثلاثة مندوبي مبيعات، ويُبيّن الجدول الأيسر نسب العمولة القديمة والجديدة للمبيعات. أُجيب عن السؤالين التاليين اعتمادًا على المعلومات الواردة في هذين الجدولين:

	النسبة القديمة	النسبة الجديدة
أحذية الرجال	9%	9.5%
أحذية النساء	9%	10%
أحذية الأطفال	13%	12%

	أحذية الرجال	أحذية النساء	أحذية الأطفال
المندوب 1	1200	2300	900
المندوب 2	3100	2800	1100
المندوب 3	3700	2600	800

19 أجد المصفوفة التي تُمثّل ما يجنيه كلُّ من المندوبين الثلاثة وفق النسبة الجديدة والنسبة القديمة.

20 أُحدّد المندوب الأكثر استفادة من تغيير نسب العمولة، ثمَّ أُبرّر إجابتي.

أُحدّد إذا كانت كل عبارة ممّا يأتي صحيحة أحيانًا، أو صحيحة دائمًا، أو غير صحيحة أبدًا، ثمَّ أُبرّر إجابتي:

21 إذا أمكن إيجاد AB و BA ، فإنّ المصفوفة A والمصفوفة B مُربّعتان.

22 إذا كان AB مصفوفة صفرية، فإنّ A مصفوفة صفرية، أو B مصفوفة صفرية.

المُحدِّدات وقاعدة كرامر Determinants and Cramer's Rule

أجد قيمة كلٍّ من المُحدِّدات الآتية:

$$1 \quad \begin{vmatrix} 5 & 3 \\ -2 & 1 \end{vmatrix}$$

$$2 \quad \begin{vmatrix} 4 & 5 \\ 3 & 4 \end{vmatrix}$$

$$3 \quad \begin{vmatrix} -5 & 10 \\ -3 & 6 \end{vmatrix}$$

$$4 \quad \begin{vmatrix} 7 & -3 & 1 \\ 8 & 0 & 4 \\ 2 & -5 & 6 \end{vmatrix}$$

$$5 \quad \begin{vmatrix} 4 & -2 & -4 \\ -6 & 3 & 6 \\ -1 & 0 & -2 \end{vmatrix}$$

$$6 \quad \begin{vmatrix} 5 & -3 & 1 \\ 4 & 7 & 6 \\ -2 & 2 & 8 \end{vmatrix}$$

7 إذا كان: $A = \begin{bmatrix} -2 & 5 \\ -3 & 4 \end{bmatrix}$, $B = \begin{bmatrix} 6 & -1 \\ 5 & 0 \end{bmatrix}$ ، فأجد قيمة كلٍّ من $|AB|$ ، و $|BA|$.

8 إذا كانت: $\begin{vmatrix} x & 8 \\ 2 & x \end{vmatrix} = 9$ ، فأجد قيمة x .

9 إذا كان: $A = \begin{bmatrix} 2 & -1 \\ 4 & 0 \end{bmatrix}$ ، فأجد مُحدِّد A^2 ، ثمَّ أبينَّ علاقتها بمُحدِّد A .

10 تُعطى معادلة المستقيم المارَّ بالنقطتين (x_1, y_1) ، (x_2, y_2) بالقاعدة: $\begin{vmatrix} x & y & 1 \\ x_1 & y_1 & 1 \\ x_2 & y_2 & 1 \end{vmatrix} = 0$. أستعمل هذه القاعدة لإيجاد

معادلة المستقيم المارَّ بالنقطتين $(-1, 3)$ ، $(2, -5)$.

المُحدِّدات وقاعدة كريمر

Determinants and Cramer's Rule

أحلُّ كلاً من أنظمة المعادلات الآتية باستعمال قاعدة كريمر:

11 $3x - 5y = 22$
 $2x + y = 6$

12 $3y + 5x = 7$
 $2x - 4y = 8$

13 $3x = y + 10$
 $4y = 6 + 5x$

14 حلَّت سلمى نظاماً من معادلتين خطيتين بالمتغيرين x ، و y باستعمال قاعدة كريمر، فوجدت أن:

$$x = \frac{\begin{vmatrix} 3 & 5 \\ -1 & 2 \end{vmatrix}}{D}, y = \frac{\begin{vmatrix} 4 & 3 \\ 1 & -1 \end{vmatrix}}{D}$$

ما قيمة كلٍّ من x ، و y ؟

15 أجد مساحة المثلث الذي رؤوسه: $A(-2, 5)$ ، $B(7, 11)$ ، $C(1, 15)$ باستعمال المُحدِّدات.

16 **نقود:** يوجد في صندوق مُحاسب 75 ورقة نقد أردنية من فئة الدينار وخمسة الدينار وعشرة الدينار، تبلغ قيمتها الإجمالية JD 460. إذا كان عدد أوراق النقد من فئة خمسة الدينار يساوي 4 أمثال عدد أوراق النقد من فئة الدينار، فأجد عدد ما في الصندوق من أوراق النقد لكل فئة باستعمال قاعدة كريمر.

أختبر معلوماتي قبل البدء بدراسة الوحدة، وفي حال عدم تأكدي من الإجابة أستعين بالمثل المعطى.

إيجاد الوسط الحسابي لبيانات مفردة

أجد الوسط الحسابي للأعداد المُعطاة في كلِّ ممَّا يأتي:

1 89, 90, 95, 72, 83, 100, 94

2 345, 279, 583, 404, 556, 702, 636

3 78, 82, 85, 74, 98, 90, 80, 62, 71, 91

4 24.6, 20.9, 25.5, 26.9, 27.1, 22.36

مثال: أجد الوسط الحسابي للأعداد الآتية: 3, 12, 13, 11, 16, 3, 12

$$3 + 12 + 13 + 11 + 16 + 3 + 12 = 70$$

$$\bar{x} = \frac{70}{7} = 10$$

بإيجاد مجموع القيم

بقسمة المجموع على عدد القيم

إذن، الوسط الحسابي هو: 10

الخوارزميات Algorithms

يُمكن إيجاد الجذر التربيعي لأيِّ عدد حقيقي موجب مُقَرَّبًا إلى أقرب منزلتين عشريتين باستعمال الخوارزمية الآتية:

1. أدخل العدد N .

2. أجد: $S = \frac{N}{2}$.

3. أجد: $T = \frac{\frac{N}{S} + S}{2}$ مُقَرَّبًا إلى أقرب منزلتين عشريتين.

4. إذا كانت $S = T$ بعد تقريب قيمة T إلى أقرب منزلتين عشريتين، فإنني أنتقل إلى الخطوة السابعة.

5. أضع قيمة T بدلًا من قيمة S .

6. أعود إلى الخطوة الثالثة.

7. أطبع قيم S مُقَرَّبًا إلى أقرب منزلتين عشريتين.

أطبّق الخوارزمية السابقة لإيجاد الجذر التربيعي لكل عدد ممّا يأتي مُقَرَّبًا إلى أقرب منزلتين عشريتين:

1 7

2 3

3 11

4. أطبّق الخوارزمية الآتية لإيجاد مُخرَجها عندما $P = 600, R = 4, T = 5$.

1. Input P, R, T
2. Let $I = (P \times R \times T) / 100$
3. Let $A = P + I$
4. Let $M = A / (T \times 12)$
5. Print M
6. Stop

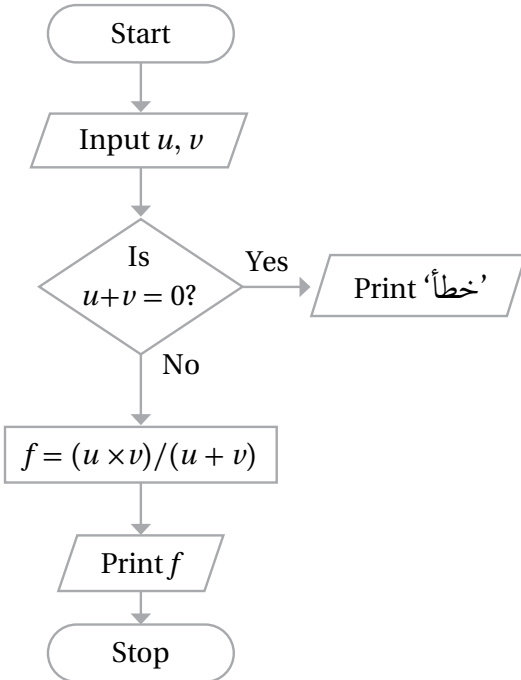
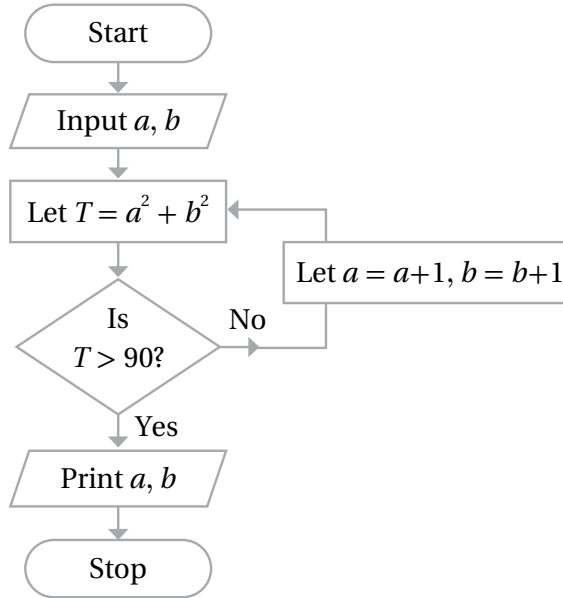
الخوارزميات

Algorithms

الدرس

1

5 أُنطبق الخوارزمية الآتية لإيجاد مُخرجاتها عندما $a = 3, b = 1$.



أَتأمَّل الخوارزمية المجاورة المُمثَّلة بِمُخطَّط سَيْرِ العمليات،
ثُمَّ أُنطبق الخوارزمية على كُلِّ من قيمة u وقيمة v المُعطاة في
ما يَأْتِي لإيجاد المُخرَج:

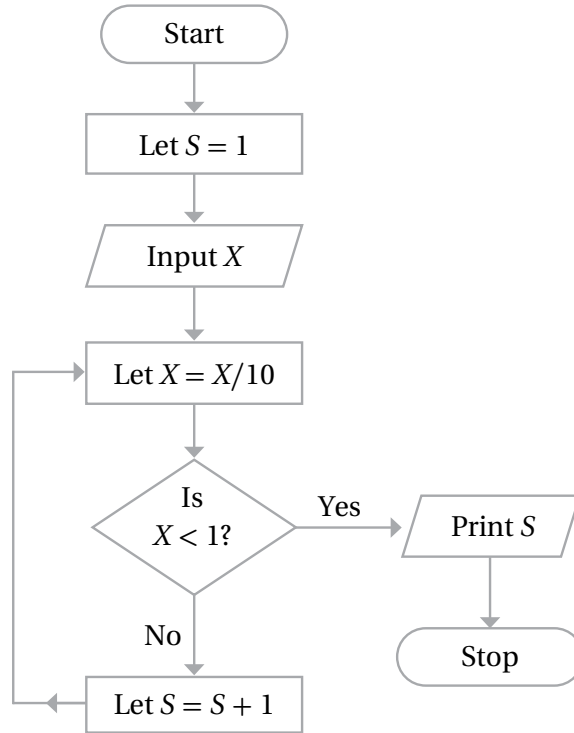
6 $u = 8, v = 8$

7 $u = 7, v = -7$

8 $u = 12, v = 4$

الخوارزميات
Algorithms

أتأمل الخوارزمية الآتية المُمثَّلة بمُخطَّط سَيْر العمليات، ثمَّ أُطبِّق الخوارزمية على قيمة X المُعطاة في ما يأتي لإيجاد المُخرَج:



9 $X = 48$

10 $X = 9170$

11 $X = -800$

خوارزميات تعبئة الصندوق Bin-Packing Algorithms

يُراد تعبئة العُلب (المُعطى ارتفاعاتها في ما يلي) في صناديق، ارتفاع كلُّ منها 45 وحدة طول. إذا علمتُ أنَّ للعُلب والصناديق المقطع العرضي نفسه، فأجيب عن الأسئلة التالية:

16 23 18 9 4 20 35 5 17 13 6 11

- 1 أستعمل خوارزمية الملاءمة الأولى لتعبئة العُلب في الصناديق، ثمَّ أحدد عدد الصناديق اللازمة لذلك، ثمَّ أجد الارتفاع المهدور في الصناديق جميعها.
- 2 أستعمل خوارزمية الملاءمة الأولى المُتناقصة لتعبئة العُلب في الصناديق، ثمَّ أحدد عدد الصناديق اللازمة لذلك، ثمَّ أجد الارتفاع المهدور في الصناديق جميعها.
- 3 أيُّ الخوارزميتين توصلتُ بها إلى الحلِّ الأمثل؟ أبرر إجابتي.

يُراد تعبئة العُلب (المُعطى ارتفاعاتها في ما يلي) في صناديق، ارتفاع كلُّ منها 20 وحدة طول. إذا علمتُ أنَّ للعُلب والصناديق المقطع العرضي نفسه، فأجيب عن الأسئلة التالية:

5 1 8 13 16 5 8 2 15 12 10

- 4 أستعمل خوارزمية الملاءمة الأولى لتعبئة العُلب في الصناديق، ثمَّ أحدد عدد الصناديق اللازمة لذلك، ثمَّ أجد الارتفاع المهدور في الصناديق جميعها.
- 5 أستعمل خوارزمية الملاءمة الأولى المُتناقصة لتعبئة العُلب في الصناديق، ثمَّ أحدد عدد الصناديق اللازمة لذلك، ثمَّ أجد الارتفاع المهدور في الصناديق جميعها.
- 6 أستعمل خوارزمية الصندوق الكامل لتعبئة العُلب في الصناديق، ثمَّ أحدد عدد الصناديق اللازمة لذلك، ثمَّ أجد الارتفاع المهدور في الصناديق جميعها.
- 7 أيُّ الخوارزميات توصلتُ بها إلى الحلِّ الأمثل؟ أبرر إجابتي.

خوارزميات تعبئة الصندوق Bin-Packing Algorithms

تخزين بيانات: في ما يأتي ساعات 8 ملفات حاسوبية (بالميجابايت) يُراد حفظها في أقراص تخزين، سعة كلٍّ منها 50 ميغابايت:

23 29 11 34 10 14 35 17

8 أُحدّد كيف تُحفظ الملفات في الأقراص باستعمال خوارزمية المُلاءمة الأولى، ثمَّ أُحدّد عدد الأقراص اللازمة لذلك باستعمال هذه الخوارزمية، ثمَّ أجد مساحة التخزين المهدورة في الأقراص.

9 أُحدّد كيف تُحفظ الملفات في الأقراص باستعمال خوارزمية الصندوق الكامل، ثمَّ أُحدّد عدد الأقراص اللازمة لذلك باستعمال هذه الخوارزمية، ثمَّ أجد مساحة التخزين المهدورة في الأقراص.

10 أيُّ الخوارزميتين توصلتُ بها إلى الحلِّ الأمثل؟ أبرّر إجابتي.

خشب: في ما يأتي أطوال 10 قطع خشبية (بالمليمتر)، يرادُ قَصُّها من ألواح خشبية كبيرة تُباع بطول 1 m:

650 431 245 643 455 134 710 290 550 452

11 أُحدّد كيف تُقَصُّ القطع الخشبية من الألواح باستعمال خوارزمية المُلاءمة الأولى، ثمَّ أُحدّد عدد الألواح اللازمة لذلك باستعمال هذه الخوارزمية، ثمَّ أجد طول الجزء المهدور في الخشب.

12 أُحدّد كيف تُقَصُّ القطع الخشبية من الألواح باستعمال خوارزمية المُلاءمة الأولى المُتناقصة، ثمَّ أُحدّد عدد الألواح اللازمة لذلك باستعمال هذه الخوارزمية، ثمَّ أجد طول الجزء المهدور في الخشب.

13 أيُّ الخوارزميتين توصلتُ بها إلى الحلِّ الأمثل؟ أبرّر إجابتي.

خوارزميات تعبئة الصندوق Bin-Packing Algorithms

شحن: في ما يأتي كتل 10 صناديق (بالكيلوغرام)، يُراد نقلها في شاحنات، تحمل كلُّ منها كتلة إجمالية أقصاها 300 kg:

175 135 210 105 100 150 60 30 90 125

14 أُحدّد كيف تُوزّع الصناديق على الشاحنات باستعمال خوارزمية المُلاءمة الأولى، ثمَّ أُحدّد عدد الشاحنات اللازمة لذلك باستعمال هذه الخوارزمية.

15 أُحدّد كيف تُوزّع الصناديق على الشاحنات باستعمال خوارزمية المُلاءمة الأولى المُتناقصة، ثمَّ أُحدّد عدد الشاحنات اللازمة لذلك باستعمال هذه الخوارزمية.

16 أيُّ الخوارزميتين توصّلتُ بها إلى الحلّ الأمثل؟ أبرّر إجابتي.

أنابيب: في ما يأتي أطوال 8 قطع بلاستيكية (بالسنتيمتر)، يرادُ قَصُّها من أنابيب، طول كلِّ منها 50 cm:

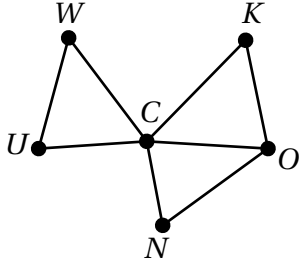
25 22 30 18 29 21 27 21

17 أُحدّد كيف تُقَصُّ القطع من الأنابيب باستعمال خوارزمية المُلاءمة الأولى المُتناقصة، ثمَّ أُحدّد عدد الأنابيب اللازمة لذلك باستعمال هذه الخوارزمية، ثمَّ أجد طول الجزء المهذور في الأنابيب.

18 أُحدّد كيف تُقَصُّ القطع من الأنابيب باستعمال خوارزمية الصندوق الكامل، ثمَّ أُحدّد عدد الأنابيب اللازمة لذلك باستعمال هذه الخوارزمية، ثمَّ أجد طول الجزء المهذور في الأنابيب.

19 أيُّ الخوارزميتين توصّلتُ بها إلى الحلّ الأمثل؟ أبرّر إجابتي.

المُخَطَّطات Graphs

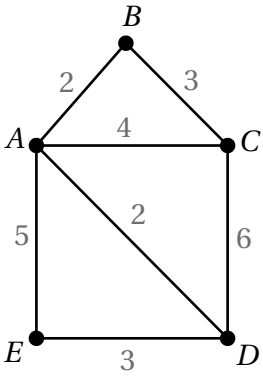


أتأمل الشكل المجاور الذي يُبيِّن مُخَطَّطًا للطرق الرئيسة بين مجموعة من المدن، ثمَّ أُجيب عن الأسئلة الآتية تبعًا:

1 أصف ما تُمثِّله كلُّ من الرؤوس والحافات في المُخَطَّط؟

2 أصف مسارين مُحتمَلين يُمكن بهما الوصول من المدينة W إلى المدينة O .

3 ما عدد المدن التي ترتبط بها المدينة C مباشرة؟



تكلفة: يُبيِّن الشكل المجاور مُخَطَّطًا لتكلفة استعمال سيَّارة رُكَّاب صغيرة للتنقُّل بين مناطق عدَّة في مدينة عمَّان، حيث يُمثِّل العدد على كل حافة التكلفة بالدينار للتنقُّل بين كل منطقتين:

4 أجد تكلفة الذهاب من المنطقة C إلى المنطقة D مباشرة.

5 أُحدِّد أقل تكلفة للذهاب من المنطقة A إلى المنطقة D ، ثمَّ أُحدِّد المسار الذي اتخذته لذلك.

6 أُحدِّد أقل تكلفة للذهاب من المنطقة B إلى المنطقة E ، ثمَّ أُحدِّد المسار الذي اتخذته لذلك.

المُخَطَّطات

Graphs

الدرس

3

أتملّ المُخَطَّط المجاور، ثمّ أُجيب عن كلّ ممّا يأتي:

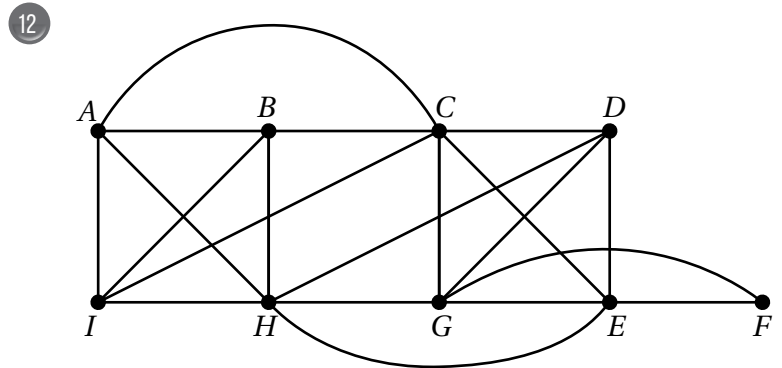
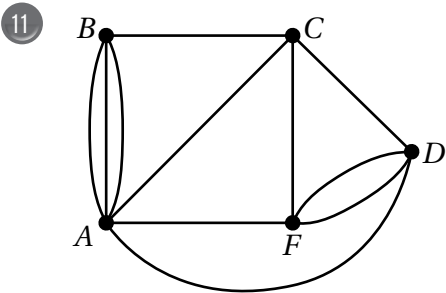
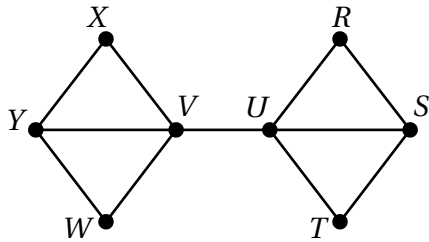
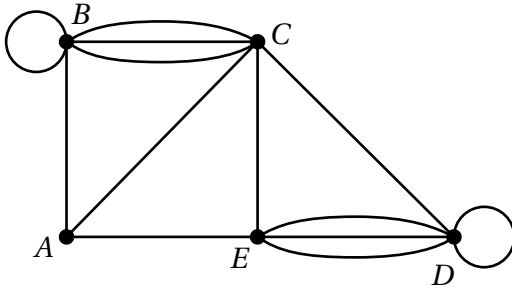
7 أُحدّد مجموعة الرؤوس ومجموعة الحافات.

8 أُحدّد درجة كل رأس من رؤوس المُخَطَّط، ونوعها.

9 أُحدّد مجموعة الدرجات للمُخَطَّط.

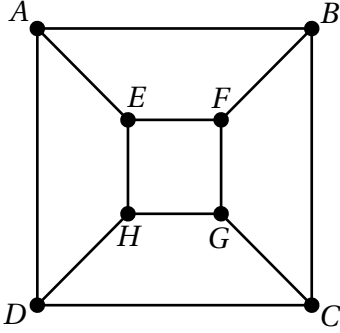
10 أُحدّد جميع الطرق التي تصل بين الرأس X والرأس T في المُخَطَّط المجاور.

أجد مجموع درجات الرؤوس في كلّ من المُخَطَّطين الآتيين:



المُخَطَّطات
Graphs

أتأمل المُخَطَّط المجاور، ثم أُجيب عن كلِّ ممَّا يأتي:



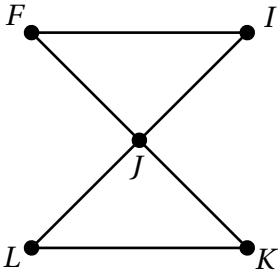
13 أُحدِّد مجموعة الرؤوس ومجموعة الحافات.

14 أُحدِّد درجة كل رأس من رؤوس المُخَطَّط، ونوعها.

15 أُحدِّد مجموعة الدرجات للمُخَطَّط.

16 أُحدِّد في المُخَطَّط ممسَّى لا يُمثَّل ممرًا، وممرًا لا يُمثَّل طريقًا، وطريقًا، ودارةً، ودارة هاملتون تبدأ بالرأس A ، ودارة أويلر (إن وُجدت).

أتأمل المُخَطَّط المجاور، ثم أُجيب عن كلِّ ممَّا يأتي:

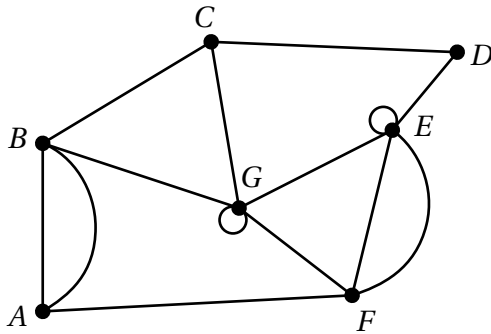


17 أُحدِّد مجموعة الرؤوس ومجموعة الحافات.

18 أُحدِّد درجة كل رأس من رؤوس المُخَطَّط، ونوعها.

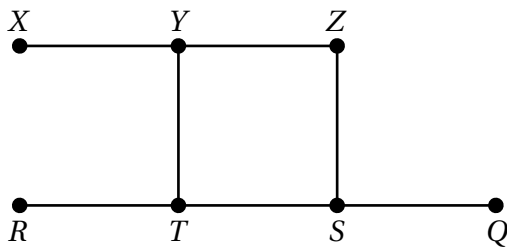
19 أُحدِّد في المُخَطَّط ممسَّى لا يُمثَّل ممرًا، وممرًا لا يُمثَّل طريقًا، وطريقًا، ودارةً، ودارة هاملتون (إن وُجدت)، ودارة أويلر تبدأ بالرأس F .

أنواع خاصة من المخططات Special Types of Graphs



أتأمل المخطط المجاور، ثم أجيب عن كل مما يأتي:

- 1 هل المخطط بسيط؟ أبرر إجابتي.
- 2 هل المخطط متصل؟ أبرر إجابتي.
- 3 أرسم مخططين جزئيين من المخطط.
- 4 أرسم شجرتين للمخطط.
- 5 أرسم شجرة شاملة للمخطط.

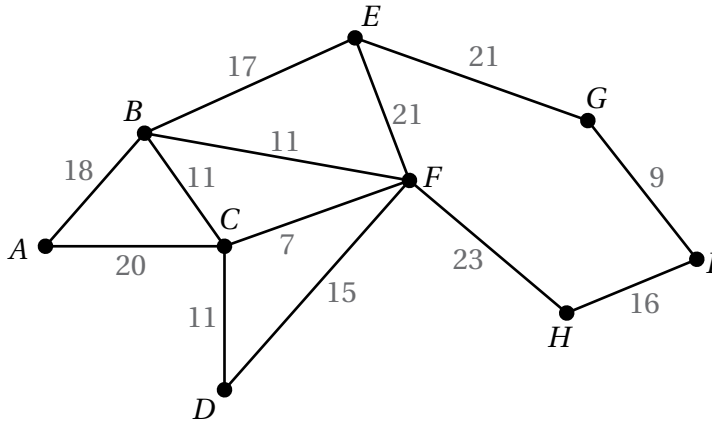
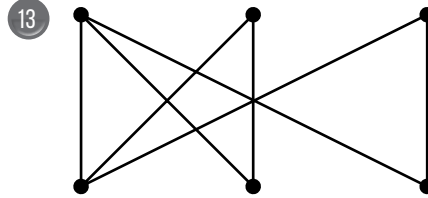
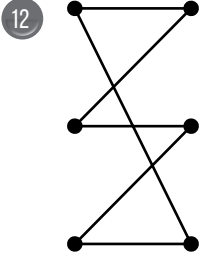


أتأمل المخطط المجاور، ثم أجيب عن كل مما يأتي:

- 6 هل المخطط بسيط؟ أبرر إجابتي.
- 7 هل المخطط متصل؟ أبرر إجابتي.
- 8 هل المخطط كامل؟ أبرر إجابتي.
- 9 أرسم مخططين جزئيين من المخطط.
- 10 أرسم شجرتين للمخطط.
- 11 أرسم شجرة شاملة للمخطط.

أنواع خاصة من المخططات
Special Types of Graphs

أرسم المخطط المُكَمَّل لكلِّ من المخططين الآتين:



حدائق: يُبين الشكل المجاور مخططًا للممرات التي تصل بين المحطات الرئيسية في إحدى الحدائق، حيث يُمثَّل العدد على كل حافة طول الممر (بالمتر) بين كل محطتين رئيسيتين. أجب عن السؤالين الآتين تبعًا:

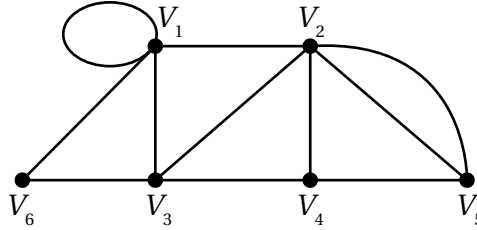
14 أستمعمل خوارزمية برايم لإيجاد أصغر شجرة شاملة للمخطط، ثم أكتب الحافات التي أُضيفت إلى الشجرة بالترتيب.

15 أستمعمل إجابة السؤال السابق لإيجاد أقل تكلفة تلزم لتبليط الممرات للربط بين جميع المحطات الرئيسية في الحديقة، علمًا بأنَّ تكلفة تبليط المتر الطولي الواحد من الممر 25 JD.

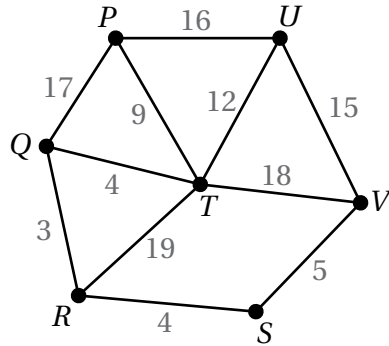
أنواع خاصة من المخططات

Special Types of Graphs

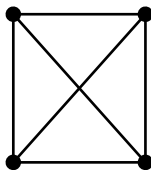
16 أمثل المخطط الآتي بمصفوفة الجوار.



17 أمثل المخطط الآتي بمصفوفة الوزن.



19 أرسم 6 أشجار شاملة للمخطط الآتي.



18 أرسم المخطط الممثل في مصفوفة الجوار الآتية.

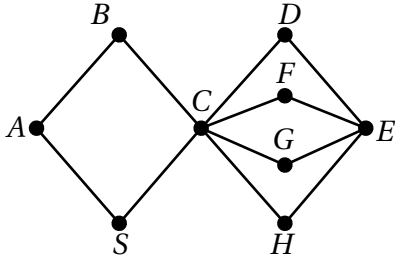
$$\begin{bmatrix} 0 & 2 & 1 & 0 \\ 2 & 2 & 1 & 0 \\ 1 & 1 & 0 & 0 \\ 0 & 0 & 0 & 4 \end{bmatrix}$$

مُخَطَّطات أويلر Euler Graphs

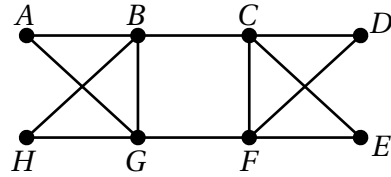
أتأمل كل مُخَطَّط ممَّا يأتي، ثمَّ أحدِّد إذا كان أويلريًّا، أو شبه أويلري، أو غير ذلك.

الوحدة 2: الخوارزميات ونظرية المخططات.

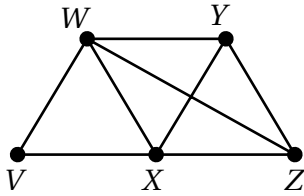
1



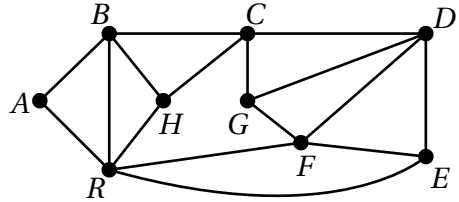
2



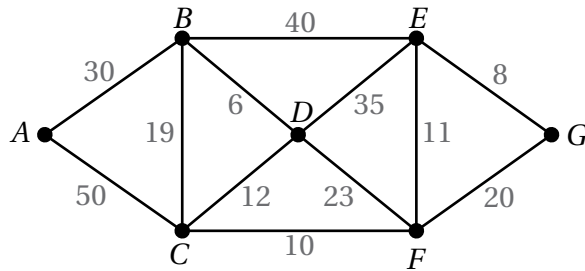
3

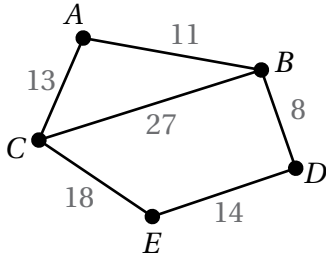


4



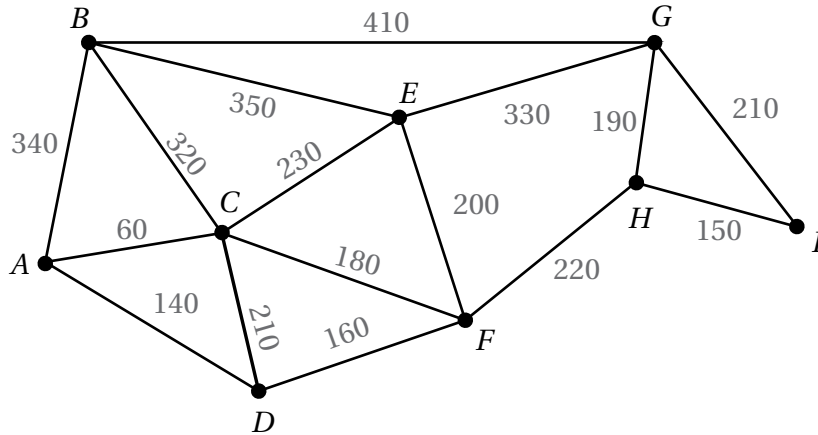
5 أجد طول أقصر مسار أويلري في المخطَّط الموزون الآتي، يبدأ بالرأس G ، وينتهي به.



مُخَطَّطات أويلر
Euler Graphs

6 أجد طول أقصر مسار أويلري في المخطط الموزون المجاور، يبدأ بالرأس C ، وينتهي به.

7 **حدايق:** يُبيّن الشكل التالي مخططاً للمسارات في إحدى الحدائق العامة. وفيه يُمثّل العدد على كل حافة طول المسار بالمتراً. تريد المهندسة الزراعية في الحديقة أن تسير على كل مسار فيها مرّة واحدة على الأقل يومياً، بدءاً بالنقطة A ، وانتهاءً بها؛ لتفقد المزروعات. أجد طول أقصر مسار أويلري يُمكن أن تمرّ به المهندسة لإنجاز مهمتها.



أختبر معلوماتي قبل البدء بدراسة الوحدة، وفي حال عدم تأكدي من الإجابة أستعين بالمثال المُعطى.

استعمال المتباينات الخطية بمتغيرين للتعبير عن موقف حياتي

1 نجارة: إذا علمت أن نجاراً يريد شراء نوعين من الخشب، لا يزيد ثمنهما الكلي على 72 JD، ووُجد أن ثمن المتر الطولي من النوع الأول 4 JD، ومن النوع الثاني 6 JD، فأكتب متباينة خطية بمتغيرين تُمثل كمية الخشب التي يُمكن للنجار شراؤها من كل نوع.

2 تسوق: تريد سامية شراء عنب وتفتح، بحيث لا يزيد المبلغ الذي تدفعه ثمنًا لكلا النوعين على 6 JD. إذا كان ثمن الكيلوغرام الواحد من العنب 1.5 JD، وثمان الكيلوغرام الواحد من التفاح 1 JD، فأكتب متباينة خطية بمتغيرين تُمثل عدد الكيلوغرامات التي يُمكن لسامية أن تشتريها من كل نوع.

مثال: حقائب: يصنع جمال حقائب كبيرة وأخرى صغيرة للسيدات؛ كي يبيعها في معرض الحرف اليدوية، وهو يحتاج إلى 3 أيام لصنع الحقيبة الصغيرة، و5 أيام لصنع الحقيبة الكبيرة. أكتب متباينة خطية بمتغيرين تُمثل عدد الحقائب التي يُمكن لجمال صنعها من كل نوع في 30 يومًا حدًا أقصى قبل يوم افتتاح المعرض. افترض أن عدد الحقائب الصغيرة هو x ، وأن عدد الحقائب الكبيرة هو y . ومن ثم، فإن عدد الأيام اللازمة لصنع الحقائب من كلا النوعين هو: $3x + 5y$ ، وهذا المجموع يجب ألا يتجاوز 30 يومًا. إذن، المتباينة التي تُمثل عدد الحقائب جميعًا، ويُمكن لجمال صنعها قبل افتتاح المعرض، هي: $3x + 5y \leq 30$

التذكير

رموز المتباينات				
الرمز	<	>	≤	≥
بالكلمات	أصغر من	أكبر من	أصغر من أو يساوي	أكبر من أو يساوي
	يقُلُّ عن	يزيد على	أقلُّ من أو يساوي	أكثر من أو يساوي
	أقلُّ من	أكثر من	على الأكثر	على الأقل
			لا يزيد على	لا يقلُّ عن

تمثيل معادلة خطية بمتغيرين في المستوى الإحداثي

أمثل كلاً من المعادلات الآتية في المستوى الإحداثي:

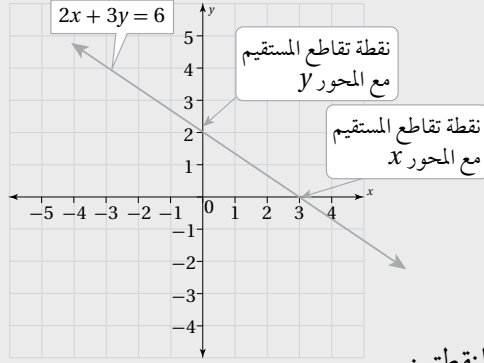
3 $x - 2y = 10$

4 $3x + y = 27$

5 $-7x - 2y = -14$

مثال: أمثل المعادلة: $2x + 3y = 6$ في المستوى الإحداثي.

لتمثيل المعادلة الخطية، أجد نقطة تقاطع المستقيم مع المحور x بتعويض $y = 0$ ، ثم أجد نقطة تقاطعه مع المحور y بتعويض $x = 0$:



$$2x + 3(0) = 6$$

بتعويض $y = 0$ في المعادلة

$$x = 3$$

بالتبسيط

$$2(0) + 3y = 6$$

بتعويض $x = 0$ في المعادلة

$$y = 2$$

بالتبسيط

إذن، نقطة تقاطع المستقيم مع المحور x هي $(3, 0)$ ، ونقطة تقاطعه مع المحور y هي $(0, 2)$.

لتمثيل المعادلة بيانياً، أرسم في المستوى الإحداثي مستقيماً يمرُّ بهاتين النقطتين.

حلُّ نظام مُكوّن من معادلتين خطيتين بطريقة الحذف

أحلُّ أنظمة المعادلات الخطية الآتية بطريقة الحذف:

6 $x + y = 5$

$x - y = 1$

7 $2x + y = 9$

$x - y = 0$

8 $x - y = 5$

$x + 2y = -1$

مثال: أحلُّ نظام المعادلات الخطية الآتي بطريقة الحذف:

$$2x + y = 4$$

$$x + 3y = 7$$

$$2x + y = 4$$

المعادلة الأولى

$$2x + 6y = 14$$

بضرب المعادلة الثانية في العدد 2

$$-5y = -10$$

بطرح المعادلتين

$$y = 2$$

بقسمة طرفي المعادلة على العدد -5

$$x + 3(2) = 7$$

بتعويض قيمة y في المعادلة الثانية

$$x = 1$$

بطرح العدد 6 من الطرفين

$$(1, 2)$$

حلُّ النظام

تحديد إذا كان زوج مُرتَّب يُمثِّل حلًّا لمتباينة خطية بمُتغيَّرين

أحدّد إذا كان كل زوج مُرتَّب ممّا يأتي يُمثِّل حلًّا للمتباينة: $x + 3y < 6$

9 (0, 1)

10 (-2, 4)

11 (8, -1)

أحدّد إذا كان كل زوج مُرتَّب ممّا يأتي يُمثِّل حلًّا للمتباينة: $-3x + 4y \geq 12$

12 (-5, 3)

13 (0, 2)

14 (3, 7)

مثال: أحدّد إذا كان كل زوج مُرتَّب ممّا يأتي يُمثِّل حلًّا للمتباينة: $3x + y < 7$

a) (-3, 1)

أعوّض الزوج المُرتَّب (-3, 1) في المتباينة:

$$3x + y < 7$$

المتباينة المُعطاة

$$3(-3) + 1 \stackrel{?}{<} 7$$

بتعويض $x = -3, y = 1$

$$-8 < 7 \quad \checkmark$$

الناتج صحيح

ألاحظ عند تعويض الزوج المُرتَّب في المتباينة أنّ الناتج يكون صحيحًا.

إذن، الزوج المُرتَّب (-3, 1) هو أحد الحلول المُمكنة للمتباينة.

a) (2, 4)

أعوّض الزوج المُرتَّب (2, 4) في المتباينة:

$$3x + y < 7$$

المتباينة المُعطاة

$$3(2) + 4 \stackrel{?}{<} 7$$

بتعويض $x = 2, y = 4$

$$10 < 7 \quad \times$$

الناتج غير صحيح

ألاحظ عند تعويض الزوج المُرتَّب في المتباينة أنّ الناتج لا يكون صحيحًا.

إذن، الزوج المُرتَّب (2, 4) ليس أحد الحلول المُمكنة للمتباينة.

تمثيل المتباينات الخطية بمتغيرين بيانياً

أمثل كلاً من المتباينات الآتية في المستوى الإحداثي:

15 $y \leq 3 - 2x$

16 $x + y < 11$

17 $x - 2y < 0$

18 $4y - 8 \geq 0$

19 $3x - y \leq 6$

20 $2x + 5y < -10$

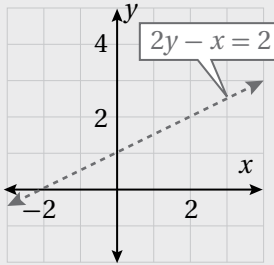
21 $-4x + 6y > 24$

22 $y < 3x + 3$

مثال: أمثل المتباينة الخطية: $2y - x < 2$ في المستوى الإحداثي.

الخطوة 1: أمثل المستقيم الحدودي.

x	0	-2
y	1	0



لتمثيل المستقيم الحدودي: $2y - x = 2$ ، أنشئ جدول قيم يبين نقاط تقاطع المستقيم مع المحورين.

أعین النقطتين $(0, 1)$ و $(-2, 0)$ في المستوى الإحداثي، ثم أرسم مستقيماً يمرُّ بهما. بما أنه لا توجد مساواة في رمز المتباينة، فإنني أرسم المستقيم الحدودي مُتَقَطَّعاً كما في الشكل المجاور.

الخطوة 2: أحدد منطقة الحلول الممكنة.

أختار نقطة لا تقع على المستقيم الحدودي، مثل $(0, 0)$ ، ثم أتحرَّق إذا كان الناتج صحيحاً أم لا عند تعويضها في المتباينة:

$$2y - x < 2$$

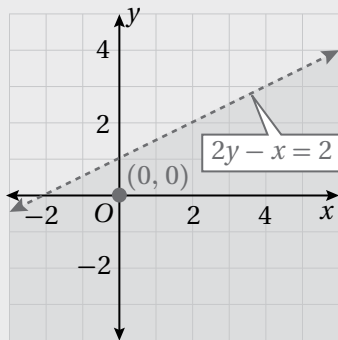
المتباينة الخطية

$$2(0) - 0 < 2$$

بتعويض $x = 0, y = 0$

$$0 < 2 \quad \checkmark$$

الناتج صحيح



الخطوة 3: أظلل منطقة الحلول الممكنة.

بما أن النقطة $(0, 0)$ هي أحد الحلول الممكنة للمتباينة، فإنني أظلل الجزء من المستوى الذي تقع فيه هذه النقطة كما في الشكل المجاور.

حلُّ نظام متباينات خطية بمُتغيّرين بيانيًا

Solving System of Linear Inequalities in Two Variables Graphically

أمثّل منطقة حلّ كلِّ من أنظمة المتباينات الآتية، ثمّ أتحرّق من صحّة الحلّ:

1 $7x - 5y > 1$

$x + 3y < 1$

2 $-8x - 5y \leq -3$

$2x + 7y < 6$

3 $4x - 8y \geq 5$

$-2y + x < -3$

4 $9x + 3y \leq 6$

$3x + y \geq 2$

5 $-x - y \leq 2$

$7x - 6y \geq 4$

$2x + 5y > 4$

6 $9x + y < 8$

$4x + 3y \geq 6$

$-8x + y \geq -5$

7 $x - 3y < 1$

$2x - 6y \geq 5$

$4x - 12y \geq 9$

8 $-6x - 3y \geq -12$

$3x + \frac{3}{2}y \geq 6$

$x + \frac{1}{2}y \leq 2$

عمل خيربي: مع حاتم 20 دينارًا، أراد أن يشتري بها نوعين من وجبات الإفطار في شهر رمضان للتصدّق بها، فوجد أنّ سعر

النوع الأوّل (A) هو 1.5 دينار، وسعر النوع الثاني (B) هو ديناران، وقد قرّر شراء أكثر من 9 وجبات من كلا النوعين:

9 أكتب نظام المتباينات الخطية الذي يُمثّل عدد الوجبات التي يُمكن لحاتم شراؤها من كلا النوعين.

10 أمثّل نظام المتباينات بيانيًا.

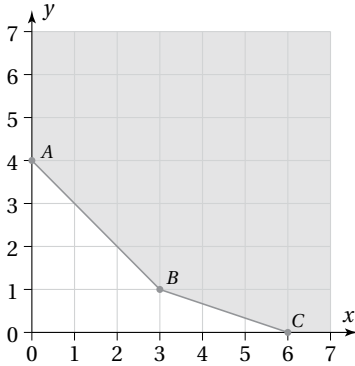
11 أجد ثلاثة حلول مُمكنة لنظام المتباينات الآتي:

$x + y \geq 0$

$y \geq 0$

$x \geq 0$

البرمجة الخطية Linear Programming



1 إذا كان التمثيل البياني للقيود الآتية كما في الشكل المجاور، فأجد إحداثيي النقطة (x, y) التي تجعل الاقتران: $Q = 4x + 2y$ أصغر ما يُمكن:

$$x + y \geq 4$$

$$x + 3y \geq 6$$

$$x \geq 0, y \geq 0$$

2 أجد إحداثيي النقطة (x, y) التي تجعل الاقتران: $W = x + 2y$ أكبر ما يُمكن ضمن القيود الآتية:

$$x + y \leq 20$$

$$2x + y \leq 30$$

$$x \geq 0, y \geq 0$$

القسم	النوع A	النوع B
التجميع	2 h	2 h
الدهان	4 h	1 h
التغليف	1 h	0.5 h

3 درّاجات هوائية: يُنتج مصنع نوعين من الدرّاجات الهوائية A, B. ويُبيّن الجدول المجاور عدد الساعات التي يستغرقها إنتاج كلٍّ من النوعين في أقسام المصنع الثلاثة. إذا كان عدد ساعات العمل الأسبوعية في كل قسم لا يزيد على 40 h للتجميع، و 48 h للدهان، و 13 h للتغليف، وكان ربح الدرّاجة الواحدة المبيعة 45 دينارًا للنوع A، و 30 دينارًا للنوع B، فكم درّاجة من كل نوع يتعيّن على المصنع إنتاجها أسبوعيًا لتحقيق أكبر ربح مُمكن؟

4 صالّة زفاف: أرادت فاطمة دعوة 250 شخصًا على الأقل إلى حفل زفاف، وتعيّن عليها استئجار طاولات ليجلس حولها المدعوون. عرضت عليها صالّة زفاف تأجيرها نوعين من الطاولات: طاولات مستطيلة الشكل تتسع لـ 6 أشخاص، وتبلغ تكلفتها استئجارها 28 دينارًا، وطاولات دائرية الشكل تتسع لـ 10 أشخاص، وتبلغ تكلفتها استئجارها 52 دينارًا. إذا كانت الصالّة تتسع لـ 35 طاولة من كلا النوعين على الأكثر، وكان أكبر عدد يُمكن توفيره من الطاولات المستطيلة الشكل 15 طاولة، فما عدد الطاولات التي يُمكن لفاطمة استئجارها من كلا النوعين بأقل تكلفة مُمكنة؟

